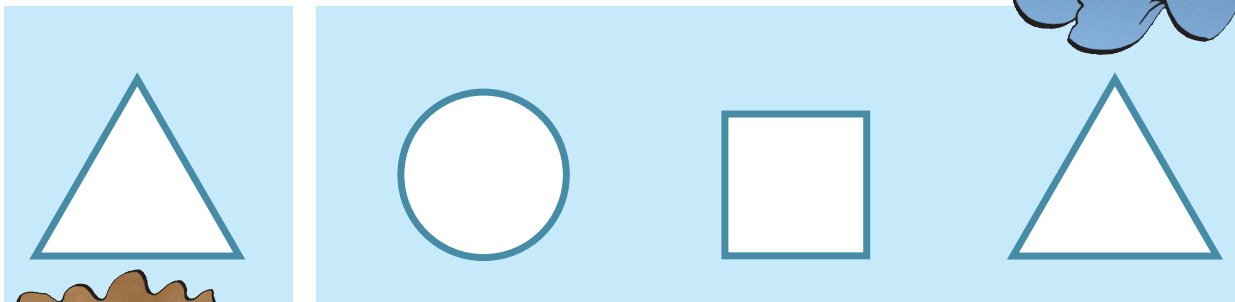


## 2. Γεωμετρικά σχήματα

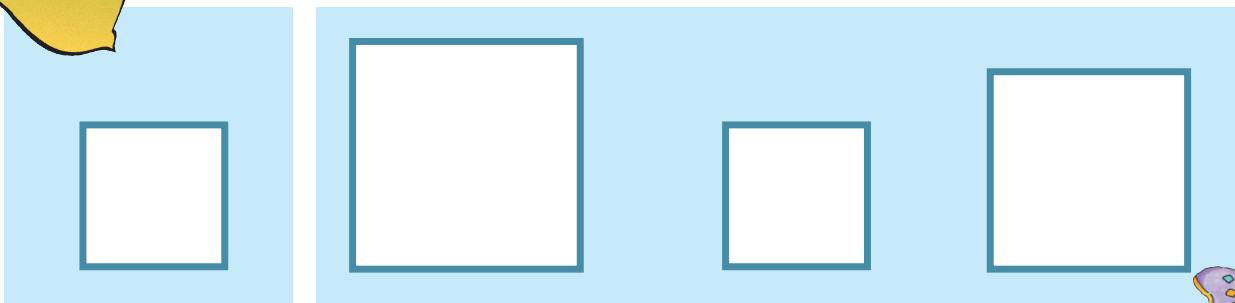
1

Χρωματίζω όσα έχουν το ίδιο σχήμα με το πρώτο.



2

Χρωματίζω όσα έχουν το ίδιο μέγεθος με το πρώτο.





# Γεωμετρικά σχήματα

3

Σχηματίζω μεγάλα και μικρά σχήματα και τα χρωματίζω.


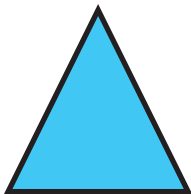


# Γεωμετρικά σχήματα



4

Ενώνω με μια γραμμή τα σχήματα με τα ονόματά τους.



τετράγωνο


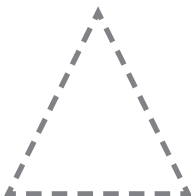
τρίγωνο

κύκλος

ορθογώνιο

5

Προσπαθώ να αντιγράψω τα σχήματα.

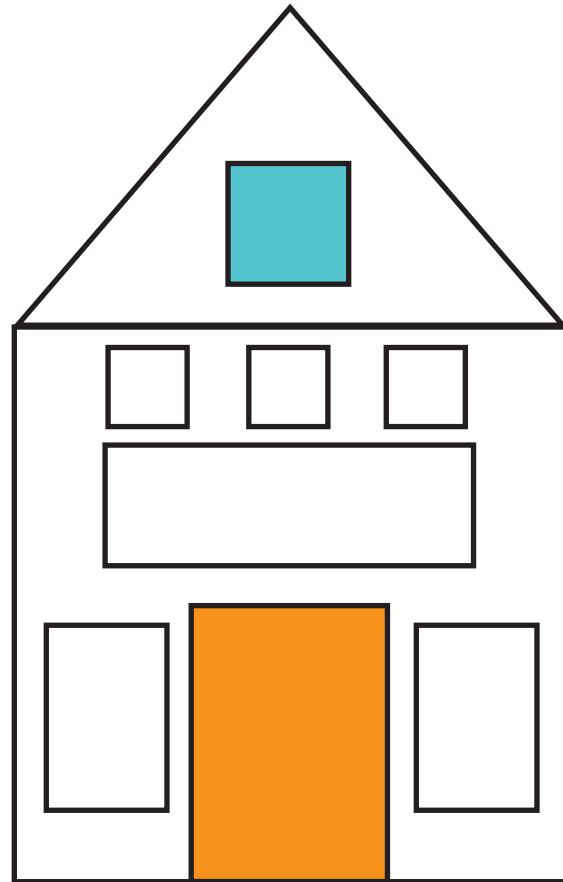







## Γεωμετρικά σχήματα

6

Χρωματίζω με το ίδιο χρώμα όσα έχουν το ίδιο σχήμα.



# Γεωμετρικά σχήματα

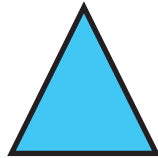


7


Χρωματίζω με το ίδιο χρώμα τα ίδια σχήματα.



τετράγωνο








τρίγωνο



κύκλος



ορθογώνιο

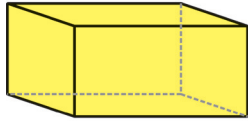




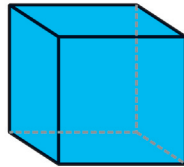
## Γεωμετρικά σχήματα

8

Χρωματίζω με το ίδιο χρώμα τα ίδια γεωμετρικά στερεά.



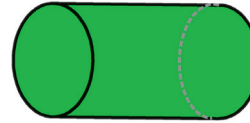
στερεό  
ορθογώνιο



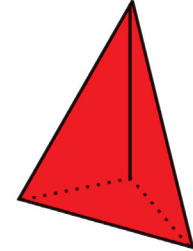
κύβος



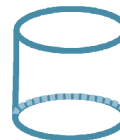
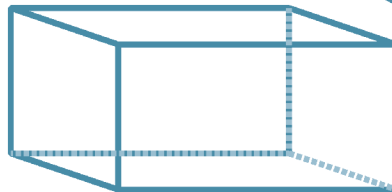
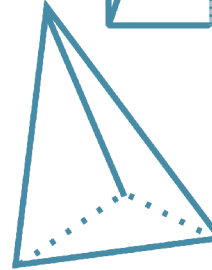

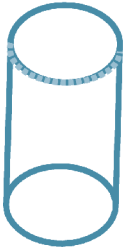
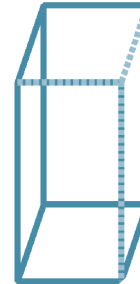
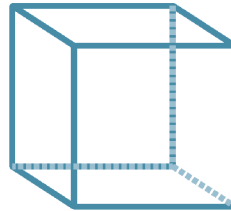
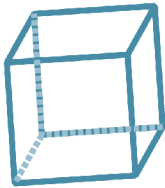
σφαίρα



κύλινδρος



πυραμίδα



Παρατήρησε  
πώς φαίνονται  
τα γεωμετρικά στερεά  
σε σχέση με τα σχήματα  
που χρωμάτισες  
προηγουμένως.

