

WWW.KINDYKIDS.GR



Όταν η ζωή στο νηπιαγωγείο γίνεται...  
παιχνίδι!



“To Site για γονείς και νηπιαγωγούς”



Το υλικό αυτό αποτελεί πνευματική  
ιδιοκτησία του KindyKids.gr  
και διανέμεται δωρεάν.



ΟΝΟΜΑ:

ΗΜΕΡΟΜΗΝΙΑ:

Πόσοι είναι οι χιονάνθρωποι; Κύκλωσε το σωστό αριθμό



3

8

4



6

9

5



2

3

6



8






4

9

ΟΝΟΜΑ:

ΗΜΕΡΟΜΗΝΙΑ:

Πόσοι είναι οι πιγκουίνοι; Γράψε το σωστό αριθμό.



ΟΝΟΜΑ:

ΗΜΕΡΟΜΗΝΙΑ:

Μέτρησε και γράψε και στο τέλος χρωμάτισε την εικόνα όπως σου αρέσει.



ΠΟΣΟΙ ΧΙΟΝΑΝΘΡΩΠΟΙ ΥΠΑΡΧΟΥΝ ΣΤΗΝ ΕΙΚΟΝΑ;



ΠΟΣΑ ΣΠΙΤΙΑ ΥΠΑΡΧΟΥΝ ΣΤΗΝ ΕΙΚΟΝΑ;



ΠΟΣΑ ΠΑΙΔΙΑ ΥΠΑΡΧΟΥΝ ΣΤΗΝ ΕΙΚΟΝΑ;



ΠΟΣΟΙ ΘΑΜΝΟΙ ΥΠΑΡΧΟΥΝ ΣΤΗΝ ΕΙΚΟΝΑ;



ΟΝΟΜΑ:

ΗΜΕΡΟΜΗΝΙΑ:

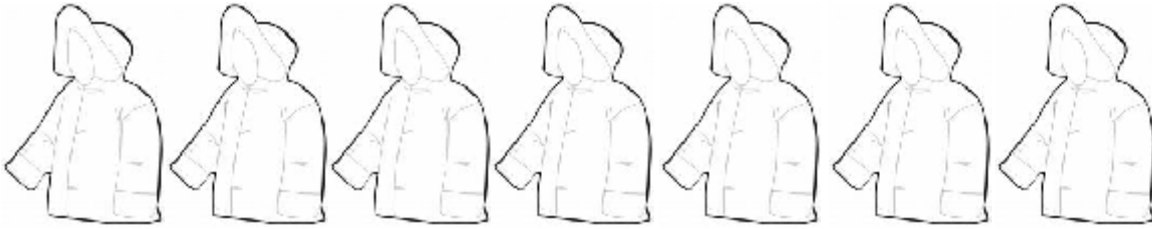
Πόσα παγοπέδιλα θα χρειαστούν τα παιδιά για να πάνε για πατινάζ;  
Μην ξεχνάς ότι κάθε παιδί θα χρειαστεί 2 πέδιλα. Βάλε σε κύκλο τα πατίνια .




ΟΝΟΜΑ:

ΗΜΕΡΟΜΗΝΙΑ:

Χρωμάτισε τόσα ρούχα όσα σου δείχνει ο αριθμός.



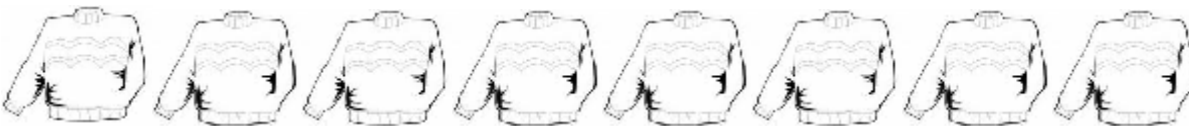
5



9



3



8



10

ΟΝΟΜΑ:

ΗΜΕΡΟΜΗΝΙΑ:

Πόσο κάνει; Βρες και γράψε τον αριθμό στο κουτάκι.

$$\begin{array}{|c|} \hline \text{Two children in winter clothes} \\ \hline \end{array} + \begin{array}{|c|} \hline \text{One child in winter clothes} \\ \hline \end{array} = \begin{array}{|c|} \hline \square \\ \hline \end{array}$$

$$\begin{array}{|c|} \hline \text{Two children with ice cream} \\ \hline \end{array} + \begin{array}{|c|} \hline \text{Two children with ice cream} \\ \hline \end{array} = \begin{array}{|c|} \hline \square \\ \hline \end{array}$$





$$\begin{array}{|c|} \hline \text{One penguin} \\ \hline \end{array} + \begin{array}{|c|} \hline \text{One penguin} \\ \hline \end{array} = \begin{array}{|c|} \hline \square \\ \hline \end{array}$$

$$\begin{array}{|c|} \hline \text{Three snowflakes} \\ \hline \end{array} + \begin{array}{|c|} \hline \text{Two snowflakes} \\ \hline \end{array} = \begin{array}{|c|} \hline \square \\ \hline \end{array}$$

ΟΝΟΜΑ:

ΗΜΕΡΟΜΗΝΙΑ:

Συμπλήρωσε το μοτίβο. Ποιο έρχεται μετά; Κύκλωσε το σωστή εικόνα.






ΟΝΟΜΑ:

ΗΜΕΡΟΜΗΝΙΑ:

Πόσα είναι; Χρωμάτισε τα κουτάκια με το σωστό αριθμό και βρες ποια είναι τα περισσότερα και ποια τα λιγότερα.



5

4

3

2

1

Four empty rectangular boxes with rounded corners, arranged horizontally. Each box has a dashed horizontal line at the top and a solid horizontal line at the bottom, creating a space for counting. The boxes are colored blue, red, yellow, and orange from left to right.