

Επαναληπτικές ασκήσεις στα μαθηματικά

1. Να συμπληρώσεις τις προπαίδειες.

$1 \times 0 =$
$2 \times 0 =$
$3 \times 0 =$
$4 \times 0 =$
$5 \times 0 =$
$6 \times 0 =$
$7 \times 0 =$
$8 \times 0 =$
$9 \times 0 =$
$10 \times 0 =$

$1 \times 1 =$
$2 \times 1 =$
$3 \times 1 =$
$4 \times 1 =$
$5 \times 1 =$
$6 \times 1 =$
$7 \times 1 =$
$8 \times 1 =$
$9 \times 1 =$
$10 \times 1 =$

$1 \times 2 =$
$2 \times 2 =$
$3 \times 2 =$
$4 \times 2 =$
$5 \times 2 =$
$6 \times 2 =$
$7 \times 2 =$
$8 \times 2 =$
$9 \times 2 =$
$10 \times 2 =$

$1 \times 3 =$
$2 \times 3 =$
$3 \times 3 =$
$4 \times 3 =$
$5 \times 3 =$
$6 \times 3 =$
$7 \times 3 =$
$8 \times 3 =$
$9 \times 3 =$
$10 \times 3 =$





$1 \times 4 =$
$2 \times 4 =$
$3 \times 4 =$
$4 \times 4 =$
$5 \times 4 =$
$6 \times 4 =$
$7 \times 4 =$
$8 \times 4 =$
$9 \times 4 =$
$10 \times 4 =$

1 X 5 =	1 X 6 =	1 X 7 =	1 X 8 =	1 X 9 =	1 X 10 =
2 X 5 =	2 X 6 =	2 X 7 =	2 X 8 =	2 X 9 =	2 X 10 =
3 X 5 =	3 X 6 =	3 X 7 =	3 X 8 =	3 X 9 =	3 X 10 =
4 X 5 =	4 X 6 =	4 X 7 =	4 X 8 =	4 X 9 =	4 X 10 =
5 X 5 =	5 X 6 =	5 X 7 =	5 X 8 =	5 X 9 =	5 X 10 =
6 X 5 =	6 X 6 =	6 X 7 =	6 X 8 =	6 X 9 =	6 X 10 =
7 X 5 =	7 X 6 =	7 X 7 =	7 X 8 =	7 X 9 =	7 X 10 =
8 X 5 =	8 X 6 =	8 X 7 =	8 X 8 =	8 X 9 =	8 X 10 =
9 X 5 =	9 X 6 =	9 X 7 =	9 X 8 =	9 X 9 =	9 X 10 =
10 X 5 =	10 X 6 =	10 X 7 =	10 X 8 =	10 X 9 =	10 X 10 =

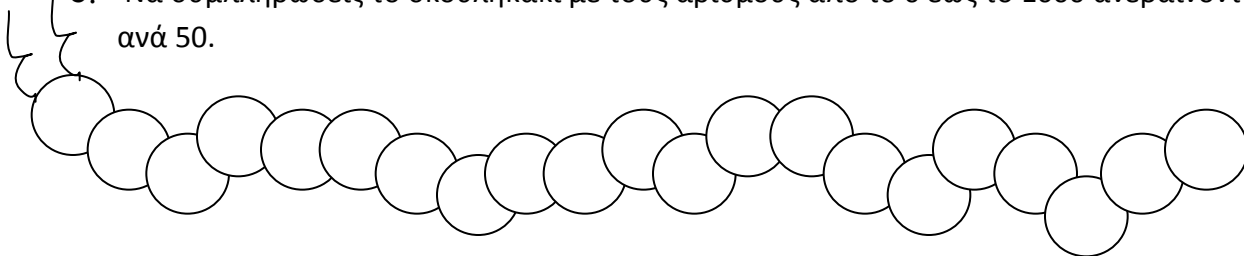
1. Απάντησε στις παρακάτω ερωτήσεις :

- Πόσα πόδια έχουν 6 σκυλάκια ; --- · --- = ---
- Πόσα δάχτυλα έχουν 9 παιδάκια; --- · --- = ---
- Πόσες ρόδες έχουν 7 αυτοκίνητα ; --- · --- = ---
- Πόσο στοιχίζουν 8 βιβλία , αν το κάθε ένα κοστίζει 6 ευρώ ;
 --- · --- = ---
- Πόσα πόδια έχουν 8 κότες ; --- · --- = ---

2. Συμπλήρωσε τον πίνακα.

Αριθμός με λέξεις	Αριθμός με ψηφία	Στον άβακα
Τριακόσια έντεκα	
Οχτακόσια πενήντα τέσσερα	
.....	156	
.....	289	


3. Να συμπληρώσεις το σκουληκάκι με τους αριθμούς από το 0 έως το 1000 ανεβαίνοντας ανά 50.



4. Να βάλεις <, > ή = ανάμεσα στους αριθμούς.

22.....220 350.....530 1000.....100 330.....330 125.....325 291..... 192

5. Η μαμά θέλει να μοιράσει στα τρία παιδιά 15 μπισκότα. Πόσα μπισκότα θα πάρει κάθε παιδί ;



Ζωγραφίζω στο πιάτο κάθε παιδιού τα μπισκότα που θα πάρει.

6. Ας θυμηθούμε τα διπλά ζευγαράκια.

1+1=..... 2+2=..... 3+3=..... 4+4=..... 5+5=..... 6+6=.....

7+7=..... 8+8=..... 9+9=..... 10+10=..... 20+20=..... 30+30=.....

40+40=..... 50+50=.....

7. Βρες το μισό των αριθμών.

86 ↙ ↘ + ↓ ↓ + =	48	24	42
--	----	----	----

8. Γράψε κατευθείαν το μισό των παρακάτω αριθμών.

Το μισό του 90 είναι το

Το μισό του 50 είναι το

Το μισό του 30 είναι το

Το μισό του 70 είναι το


9. Έδωσα στη φίλη μου τις μισές μου κούκλες και μου έμειναν 12. Πόσες κούκλες έδωσα στη φίλη μου και πόσες είχα στην αρχή;

Λύση :



Απάντηση: Στην αρχή είχα κούκλες και στη φίλη μου έδωσα τις από αυτές.

10. Να βρεις το διπλάσιο (ή ολόκληρο) των αριθμών.



11. Να βρεις κατευθείαν το διπλάσιο των αριθμών.

Το διπλάσιο του 25 είναι το.....

Το διπλάσιο του 35 είναι το

Το διπλάσιο του 15 είναι το

Το διπλάσιο του 45 είναι το

12. Να κάνεις τους πολλαπλασιασμούς.

$3 \times 5 = \dots$

$9 \times 8 = \dots$

$10 \times 0 = \dots$

$4 \times 5 = \dots$

$8 \times 8 = \dots$

$3 \times 6 = \dots$

$7 \times 7 = \dots$

$0 \times 3 = \dots$

$9 \times 9 = \dots\dots$

$6 \times 8 = \dots\dots$

$2 \times 5 = \dots\dots$

$7 \times 3 = \dots\dots$

13. Κάνε τους πολλαπλασιασμούς όπως το παράδειγμα.

$4 \times 6 = 6 \times 4 = 24$

$3 \times 8 = \dots\dots \times \dots\dots = \dots\dots$

$4 \times 2 = \dots\dots \times \dots\dots = \dots\dots$

$0 \times 4 = \dots\dots \times \dots\dots = \dots\dots$

$9 \times 2 = \dots\dots \times \dots\dots = \dots\dots$

$5 \times 6 = \dots\dots \times \dots\dots = \dots\dots$

$1 \times 10 = \dots\dots \times \dots\dots = \dots\dots$

$5 \times 9 = \dots\dots \times \dots\dots = \dots\dots$

$7 \times 8 = \dots\dots \times \dots\dots = \dots\dots$

14. Η μαμά πήγε στο ζαχαροπλαστείο και αγόρασε μελομακάρονα και πλήρωσε 6€ 80λ.
Αγόρασε και κουραμπιέδες με 7€ και 10λ.

α) Πόσο πλήρωσε συνολικά;

Λύση:

Απάντηση:.....

β) Είχε στο πορτοφόλι της 20€. Πόσα χρήματα της έμειναν;

Λύση:

Απάντηση:.....

15. Να μετρήσεις με το χάρακά σου τις πλευρές του σχήματος και ύστερα να βρεις την περίμετρό του.

