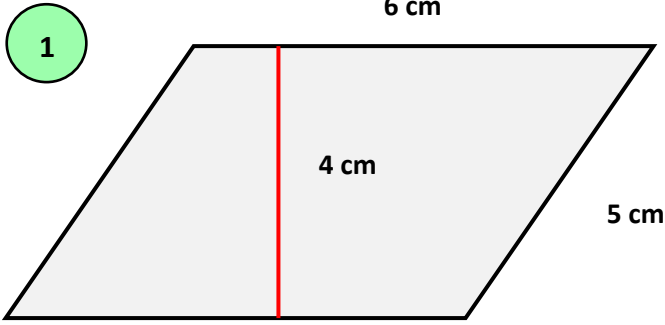


# Μαθηματικά Ε'

## Εμβαδόν τριγώνου και παραλληλογράμμου

1) Βρες το εμβαδόν των σχημάτων.



---

---

---

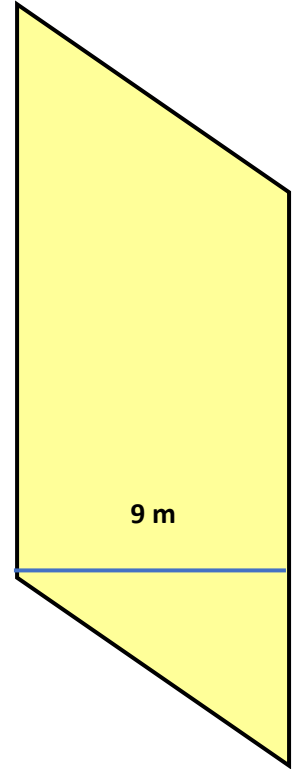
---

---

---

2

18 m



---

---

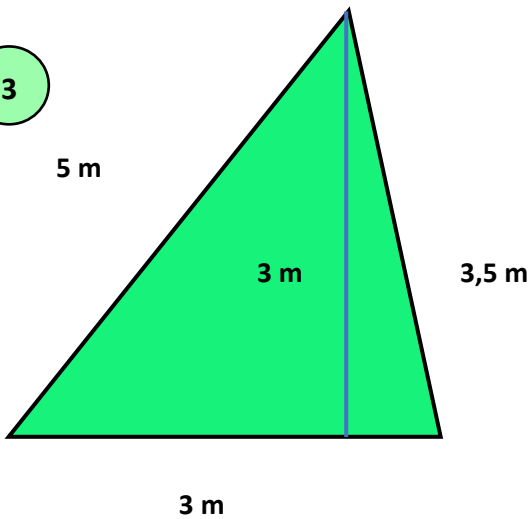
---

---

---

---

3



---

---

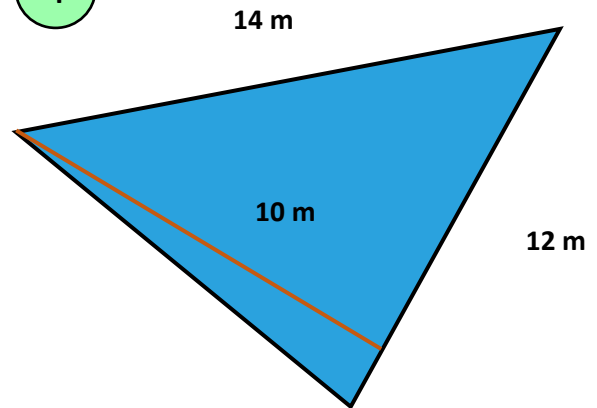
---

---

---

---

4



---

---

---

---

---

---

- 2) Βρες το εμβαδόν του πιο κάτω σχήματος χρησιμοποιώντας τις πληροφορίες που δίνονται. Αξιοποίησε τις γνώσεις σου για το πώς υπολογίζουμε το εμβαδόν τριγώνου, τετραγώνου κ.λ.π.

