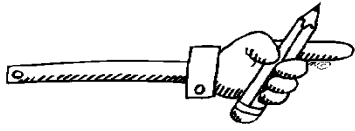


Φυλλο εργασίας Α. Προσθέτω τριψήφιους αριθμούς



1. Εκτελώ εντολές:

❖ Βρες το άθροισμα του 240 και 326

Πράξη: _____

❖ Βρες τη διαφορά των αριθμών 573 και 252

Πράξη: _____

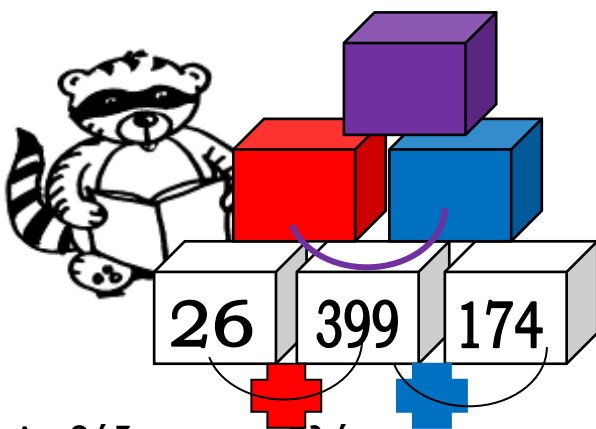
❖ Βρες το άθροισμα των αριθμών 270 και 239

Πράξη: _____

❖ Βρες τη διαφορά των αριθμών 620 και 240

Πράξη: _____

2. Πυραμίδες πρόσθεσης:



Πράξεις:

2. Διαβάζω τα προβλήματα και συμπληρώνω την ερώτηση. Μετά τα λύνω:

Ένας γεωργός φύτεψε στο περιβόλι του 524 πατάτες τη Δευτέρα και 375 την Τρίτη.

Εξίσωση: _____ Πράξη: Απάντηση: _____


Ένα βιβλίο έχει 246 σελίδες. Διάβασα τις 135 σελίδες.

Εξίσωση: _____ Πράξη: Απάντηση: _____

Σ' ένα περίπτερο πωλήθηκαν την περασμένη εβδομάδα 453 εφημερίδες. Αυτή τη βδομάδα πωλήθηκαν 245 περισσότερες από την προηγούμενη.

Εξίσωση: _____ Πράξη: Απάντηση: _____

Φύλλο εργασίας Β. Προσθέτω τριψήφιους αριθμούς



1. Εκτελώ τις πράξεις.

$\begin{array}{r} 765 \\ +178 \\ \hline \end{array}$	$\begin{array}{r} 394 \\ +337 \\ \hline \end{array}$	$\begin{array}{r} 626 \\ +99 \\ \hline \end{array}$	$\begin{array}{r} 248 \\ +253 \\ \hline \end{array}$	$\begin{array}{r} 146 \\ +298 \\ \hline \end{array}$
$\begin{array}{r} 564 \\ +365 \\ \hline \end{array}$	$\begin{array}{r} 282 \\ +58 \\ \hline \end{array}$	$\begin{array}{r} 437 \\ +169 \\ \hline \end{array}$	$\begin{array}{r} 262 \\ +359 \\ \hline \end{array}$	$\begin{array}{r} 744 \\ +268 \\ \hline \end{array}$

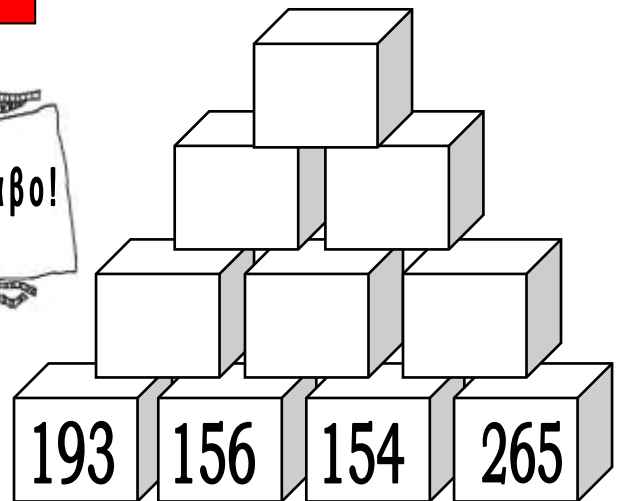
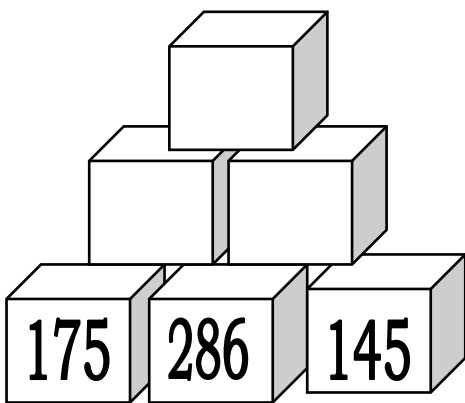
Ώρα για πρόκληση: Δοκιμάστε αν θέλετε και αυτό:

$\begin{array}{r} 152 \\ +..... \\ \hline 487 \end{array}$	$\begin{array}{r} \\ +654 \\ \hline 992 \end{array}$	$\begin{array}{r} ...34 \\ +..... \\ \hline 562 \end{array}$	$\begin{array}{r} ...8... \\ +672 \\ \hline 960 \end{array}$
--	--	--	--

Πόσα και 4 κάνει 2; Δεν έχει λογική! Άρα αυτό το 2 λογικά είναι 12. Πόσα και 4 κάνει 12;

Ώρα για πρόκληση: Δοκιμάστε αν θέλετε και αυτό!

2. Λύνω τις πυραμίδες πρόσθεσης.



Πράξεις



Όνομα:



Φύλλο εργασίας Γ. Πρόσθεση τριψήφιων αριθμών

1. Λύνω με προσοχή τις προσθέσεις που ακολουθούν.

$\begin{array}{r} 654 \\ +39 \\ \hline \end{array}$	$\begin{array}{r} 842 \\ +18 \\ \hline \end{array}$	$\begin{array}{r} 156 \\ +328 \\ \hline \end{array}$	$\begin{array}{r} 569 \\ +229 \\ \hline \end{array}$	$\begin{array}{r} 467 \\ +109 \\ \hline \end{array}$	$\begin{array}{r} 284 \\ +207 \\ \hline \end{array}$
---	---	--	--	--	--

$\begin{array}{r} 988 \\ + 9 \\ \hline \end{array}$	$\begin{array}{r} 848 \\ +119 \\ \hline \end{array}$	$\begin{array}{r} 635 \\ +138 \\ \hline \end{array}$	$\begin{array}{r} 754 \\ +38 \\ \hline \end{array}$	$\begin{array}{r} 746 \\ +126 \\ \hline \end{array}$	$\begin{array}{r} 533 \\ +409 \\ \hline \end{array}$
---	--	--	---	--	--

$\begin{array}{r} 713 \\ +267 \\ \hline \end{array}$	$\begin{array}{r} 618 \\ +154 \\ \hline \end{array}$	$\begin{array}{r} 954 \\ +36 \\ \hline \end{array}$	$\begin{array}{r} 848 \\ +17 \\ \hline \end{array}$	$\begin{array}{r} 718 \\ +253 \\ \hline \end{array}$	$\begin{array}{r} 138 \\ +605 \\ \hline \end{array}$
--	--	---	---	--	--

$\begin{array}{r} _ 5 _ \\ +4 _ 7 \\ \hline 9 8 7 \end{array}$	$\begin{array}{r} _ 1 6 \\ +3 1 _ \\ \hline 6 _ 3 \\ \downarrow \\ (13) \end{array}$		$\begin{array}{r} 3 5 _ \\ + _ 8 9 \\ \hline 5 _ 1 \end{array}$	$\begin{array}{r} 3 _ 5 \\ +4 3 _ \\ \hline _ 5 1 \end{array}$
---	---	---	--	---

2. Διαβάζω και λύνω τα προβλήματα.

- ❖ Ένα σχολείο έχει 128 μαθητές και 156 μαθήτριες. Πόσοι είναι όλοι οι μαθητές που φοιτούν στο σχολείο;

Εξίσωση: _____

Απάντηση: _____

Πράξη

- ❖ Ο Περικλής είχε 245 βόλους. Κέρδισε στο παιχνίδι ακόμα 127. Πόσους βόλους έχει τώρα;

Εξίσωση: _____

Απάντηση: _____

Πράξη