


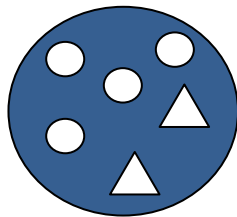



# Μαθηματικά Β'

1) Ποια είναι η μπάλα του Χαχανούλη;



- Έχει κύκλους και τρίγωνα.
- Δεν έχει κανένα ορθογώνιο.
- Οι κύκλοι είναι δύο περισσότεροι από τα τρίγωνα.
- Ο αριθμός των κύκλων είναι πολλαπλάσιο του 2.



2) Πόσα εκατοστόμετρα (cm) πιο μακρύ είναι το βέλος από τη ρίγα;



..... cm


3) Ποιο είναι το σπίτι της Στρουμφίτας ;



- Έχει κύκλους και τετράγωνα στη στέγη της.
- Δεν υπάρχει κανένα ορθογώνιο στη στέγη της.
- Βρίσκω τον αριθμό των κύκλων αν μετρήσω τρία τρία.



4) Πόσα εκατοστόμετρα (cm) πιο μακριά είναι η ρίγα από το μολύβι;



..... cm

Όνοματεπώνυμο:..... Τάξη:.....