





## φύλλα εργασίας

Β' ΔΗΜΟΤΙΚΟΥ  
Μαθηματικά  
Επαναληπτικό 9-15



# φύλλο εργασίας

## Β' Δημοτικού - Μαθηματικά Επαναληπτικό κεφαλαίων 9 - 15


### άσκηση 1η

Μέτρησε την περίμετρο των σχημάτων.



Ας υπολογίσω  
την περίμετρο...

\_\_\_\_\_



Ας υπολογίσω  
την περίμετρο...

\_\_\_\_\_

### άσκηση 2η

Γράψε στα τετραγώνια το μισό του κάθε αριθμού.

8 →

10 →

6 →

12 →

4 →

14 →

### άσκηση 3η

Γράψε στα τετραγώνια το διπλάσιο του κάθε αριθμού.

3 →

5 →

2 →


11 →

6 →

8 →


### άσκηση 4η

Συμπλήρωσε τα κενά για να φτάσεις στους αριθμούς στόχους.



## άσκηση 5η

Υπολόγισε την αξία των κερμάτων.



## άσκηση 6η

Υπολόγισε τα ρέστα!



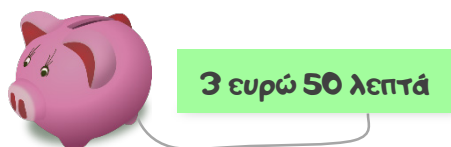
Έδωσα  
10 ευρώ

Πήρα \_\_\_\_\_  
ρέστα!



Έδωσα  
7 ευρώ

Πήρα \_\_\_\_\_  
ρέστα!

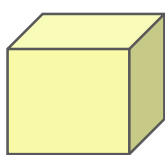


Έδωσα  
4 ευρώ

Πήρα \_\_\_\_\_  
ρέστα!

## άσκηση 7η

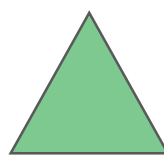
Γράψε κάτω από κάθε αντικείμενο αν είναι σχήμα ή στερεό και το είδος του.




\_\_\_\_\_  
\_\_\_\_\_



\_\_\_\_\_  
\_\_\_\_\_



\_\_\_\_\_  
\_\_\_\_\_



\_\_\_\_\_  
\_\_\_\_\_



\_\_\_\_\_  
\_\_\_\_\_



\_\_\_\_\_  
\_\_\_\_\_



## όροι χρήσης του υλικού

Όλο το περιεχόμενο του [www.thrania.com](http://www.thrania.com) στο οποίο περιλαμβάνονται ηλεκτρονικά σχολικά βοηθήματα στην υπηρεσία flipsnack, εκπαιδευτικά βίντεο στην υπηρεσία Youtube, φύλλα εργασίας σε μορφή pdf, εκπαιδευτικές αφίσες σε μορφή pdf, τα .pdf στην κατηγορία συμπληρωματικό υλικό και τα κείμενα στην κατηγορία με τις δραστηριότητες, αποτελούν πνευματική ιδιοκτησία του διαδικτυακού τόπου και της Μπέσιου Χριστίνας. Συνεπώς, κανένα από αυτά δεν μπορεί να αποτελέσει συνολικά ή εν μέρει αντικείμενο πώλησης, διαπραγμάτευσης, τροποποίησης, μετάδοσης ή/ και διανομής με κάθε τρόπο. Το υλικό του ιστοτόπου διατίθεται με άδεια Creative Commons Αναφορά Δημιουργού-Μη Εμπορική Χρήση-Όχι Παράγωγα Έργα 4.0 Διεθνές