


ΟΝΟΜΑ: .....

# Περίμετρος

## Μετρώ ευθύγραμμα τμήματα




Έφτιαξα ένα **τετράγωνο** με πλευρά **3 εκ.**  
Αν θέλω να βρω πόσο είναι και οι τέσσερις πλευρές του γύρω-γύρω  
ψάχνω την **περίμετρό** του Τι κάνω;

Προσθέτω και τις τέσσερις πλευρές.

$$3\text{εκ.} + 3\text{εκ.} + 3\text{εκ.} + 3\text{εκ.} = 12\text{εκ.}$$

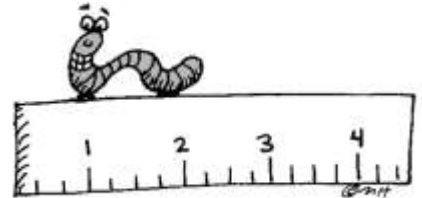
**Η περίμετρός του είναι 12εκ.**

**Βρες τώρα κι εσύ** ( Πάρε το χάρακά σου και μέτρησε )

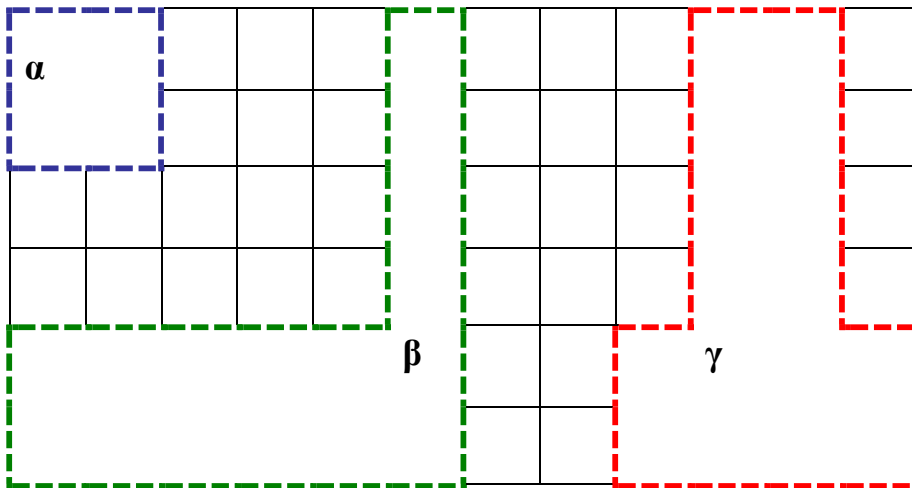


Ποια είναι η περίμετρος του σχήματος ΑΒΓΔ

.....



Υπολόγισε το μήκος που έχει γύρω γύρω **περίμετρος** καθένα από τα σχήματα



1εκ.



α → .....

β → .....

γ → .....

