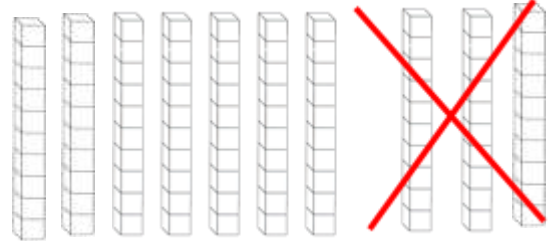



ΕΝΟΤΗΤΑ 5:

ΔΙΑΓΩΝΙΣΜΑ ΣΤΑ ΜΑΘΗΜΑΤΙΚΑ - ΠΡΟΣΘΕΣΕΙΣ ΑΦΑΙΡΕΣΙΣ 0-100

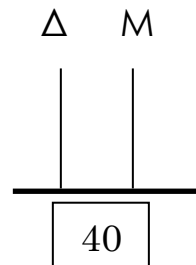
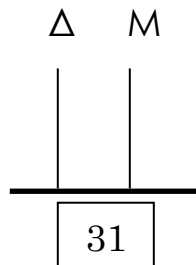
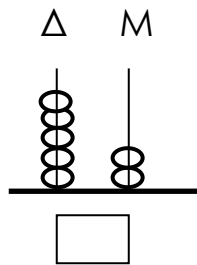
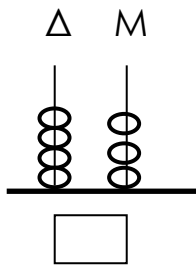
Όνοματεπώνυμο:

1. Γράφω τους αριθμούς.



___ δεκάδες + ___ μονάδες = - =

2. Συμπληρώνω τα αριθμητήρια:



3. Βάζω σε κύκλο τους αριθμούς κάθε σειράς που είναι **μεγαλύτεροι** από τον αριθμό στο γκριζο τετράγωνο.

32	47	39	12	99	23
54	50	36	90	55	65
21	12	91	34	26	9

4. Συμπληρώνω.

$40 + 20 = \underline{\quad}$

$50 - 30 = \underline{\quad}$

$100 - \underline{\quad} = 50$

$90 - 40 = \underline{\quad}$

$6 + 30 = \underline{\quad}$

$78 - \underline{\quad} = 70$

$80 - 70 = \underline{\quad}$

$30 + 5 = \underline{\quad}$

$\underline{\quad} + 9 = 89$

$45 - 5 = \underline{\quad}$

$87 - 80 = \underline{\quad}$

$\underline{\quad} + 90 = 92$

$60 + 8 = \underline{\quad}$

$71 - 1 = \underline{\quad}$

$66 - \underline{\quad} = 6$

5. Συμπληρώνω.

$$\begin{array}{r} 70 \\ - \square \\ \hline 30 \end{array}$$

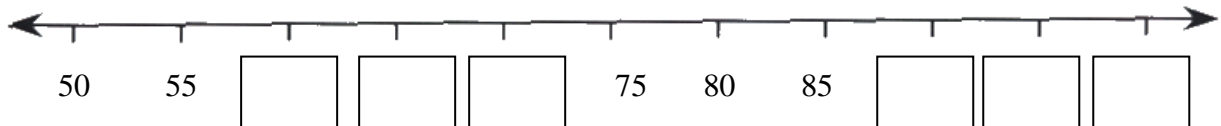
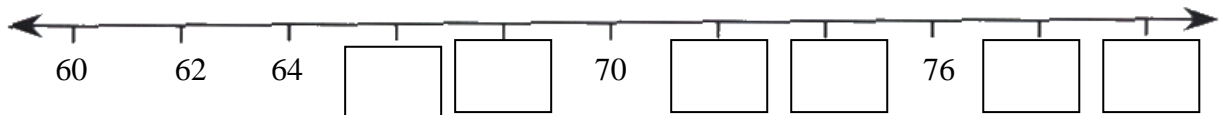
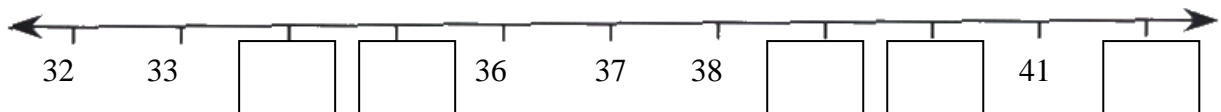
$$\begin{array}{r} \square \\ + 6 \\ \hline 76 \end{array}$$

$$\begin{array}{r} \square \\ - 20 \\ \hline 50 \end{array}$$

$$\begin{array}{r} 90 \\ + \square \\ \hline 95 \end{array}$$



6. Συμπληρώνω τις αριθμητικές γραμμές.



7. Λύνω τα προβλήματα.

- Ο Μάριος είχε 50€ και ξόδεψε τα 20€ για να αγοράσει ένα αυτοκινητάκι. Πόσα χρήματα του έμειναν;

Εξίσωση: _____

Απάντηση: _____

- Η Ελένη είχε 20€ και της έδωσε η γιαγιά της δώρο στα γενέθλιά της ακόμα μερικά και έγιναν όλα 70 €. Πόσα χρήματα της έδωσε η γιαγιά της;

Εξίσωση: _____

Απάντηση: _____

ΚΑΛΗ ΕΠΙΤΥΧΙΑ