

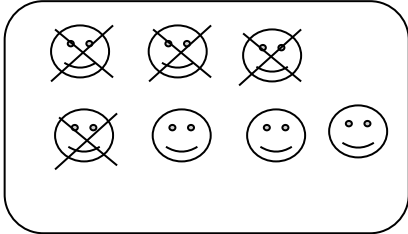


Όνομα:..... Ημερ:.....

## Επανάληψη στην Αφαίρεση

### 1) Βρίσκω την απάντηση



$$7 - 4 = \square$$

$$9 - 3 = \square$$

$$8 - 5 = \square$$

$$6 - \square = 5$$

$$\square - 3 = 4$$

$$10 - \square = 4$$

$$\square - 4 = 0$$


$$5 - \square = 1$$

$$\square - 2 = 5$$

### 2) Λύνω τις εξισώσεις

$8 - 1 =$	$\square - 2 = 7$	$5 - 5 =$	$3 - 2 =$	$9 - \square = 8$
$5 - 1 =$	$\square - 3 = 4$	$6 - 0 =$	$7 - 2 =$	$4 - \square = 1$
$6 - 1 =$	$\square - 5 = 3$	$7 - 0 =$	$6 - 3 =$	$7 - \square = 5$
$7 - 1 =$	$\square - 5 = 4$	$3 - 3 =$	$8 - 4 =$	$2 - \square = 1$
$10 - 1 =$	$\square - 2 = 4$	$\square - 0 = 8$	$9 - 2 =$	$8 - \square = 6$
$9 - 1 =$	$\square - 6 = 2$	$\square - 4 = 0$	$10 - 9 =$	$10 - \square = 3$

3)



Είχα 6 σοκολάτες. Έφαγα τις 2. Πόσες σοκολάτες έχω τώρα; Εξίσωση: \_\_\_\_\_

Απάντηση

σοκολάτες



Είχα κάποιες κούκλες. Έδωσα 3 κούκλες στην αδερφή μου και τώρα έχω 5. Πόσες κούκλες είχα στην αρχή;

Εξίσωση: \_\_\_\_\_

Απάντηση

κούκλες