

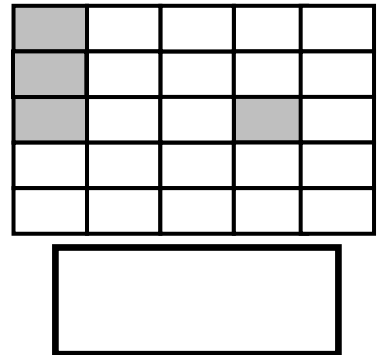
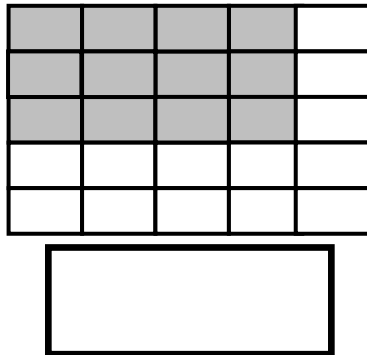
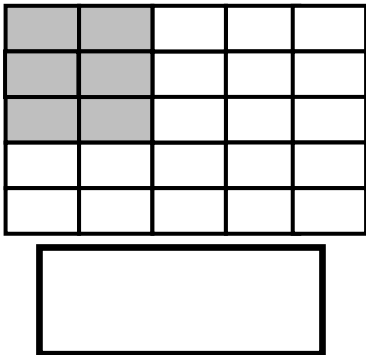
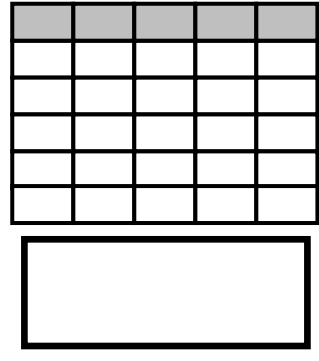
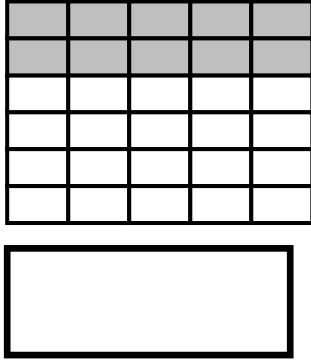
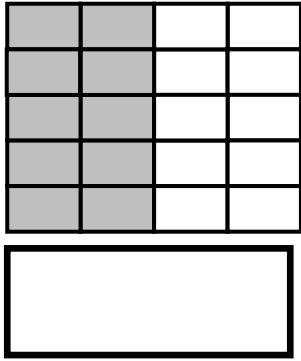


ΔΗΜΟΤΙΚΟ ΣΧΟΛΕΙΟ

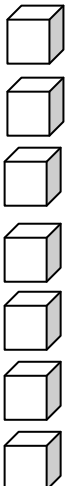
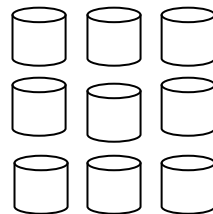





Όνομα: _____ Τάξη: _____

Πολλαπλασιασμός

1. Γράφω στο κουτάκι την μαθηματική πρόταση που ταιριάζει:



2. Γράψε την κατάλληλη μαθηματική πρόταση:



3. Συμπλήρωσε

$1 \times 2 =$	$2 \times 1 =$	$3 \times 1 =$	$4 \times 1 =$
$2 \times 2 =$	$3 \times 2 =$	$4 \times 2 =$	$5 \times 2 =$
$2 \times 3 =$	$5 \times 1 =$	$6 \times 1 =$	$2 \times 4 =$

4. Λύσε τα προβλήματα που ακολουθούν:

Έχω 4 καλάθια. Σε κάθε καλάθι έχω 2 μήλα. Πόσα είναι όλα τα μήλα;

Μαθηματική πρόταση: _____

Απάντηση: _____

Αγόρασα 2 κουτιά με σοκολάτες. Σε κάθε κουτί έχει 5 σοκολάτες. Πόσες σοκολάτες αγόρασα συνολικά;

Μαθηματική πρόταση: _____

Απάντηση: _____

Στο κατάστημα ποδηλάτων υπάρχουν 3 παλιά ποδήλατα. Κάθε ποδήλατο χρειάζεται 2 καινούρια λάστιχα. Πόσα λάστιχα συνολικά χρειάζονται για να διορθωθούν και τα τρία ποδήλατα;

Μαθηματική πρόταση: _____

Απάντηση: _____

Τρία παιδιά αγόρασαν 3 καραμέλες το καθένα. Πόσες καραμέλες αγόρασαν συνολικά;

Μαθηματική πρόταση: _____

Απάντηση: _____