

11. Να αντιστοιχίσεις και να συμπληρώσεις, όπως στο παράδειγμα.

	12 16 17	$10 + 7 = 17$
	14 16 12	$10 + 6 = 16$
	15 20 19	$10 + 5 = 15$
	14 10 2	$10 + 0 = 10$





12 Ποια είναι η φανέλα της Μαρίλιας;



Κώστας Αντρέας Νίκη Μαρίλια Ιωάννα

- Η φανέλα του Αντρέα έχει τον αριθμό 10.
- Ο αριθμός της φανέλας του Κώστα είναι κατά 4 μικρότερος από τον αριθμό της φανέλας του Αντρέα.
- Ο αριθμός της φανέλας της Νίκης είναι κατά 2 μεγαλύτερος από τον αριθμό της φανέλας του Αντρέα.
- Η φανέλα της Ιωάννας έχει αριθμό ίσο με το άθροισμα των αριθμών στις φανέλες του Αντρέα και του Κώστα.






13. Να αντιστοιχίσεις.

$30 + 6$

$2 + 40$

$20 + 3$

$7 + 50$





14 Να συμπληρώσεις.




Δεκάδες	Μονάδες
2	6

$$20 + 6 = 26$$




Δεκάδες	Μονάδες
3	4

$$30 + 4 = 34$$



Δεκάδες	Μονάδες
5	1

$$50 + 1 = 51$$



Δεκάδες	Μονάδες
4	8

$$40 + 8 = 48$$



15. Να αντιστοιχίσεις τα χρήματα του κάθε παιδιού με τα βιβλία που μπορεί να αγοράσει από την έκθεση βιβλίου του σχολείου του.



Νίκος

€22



Λήδα

€13



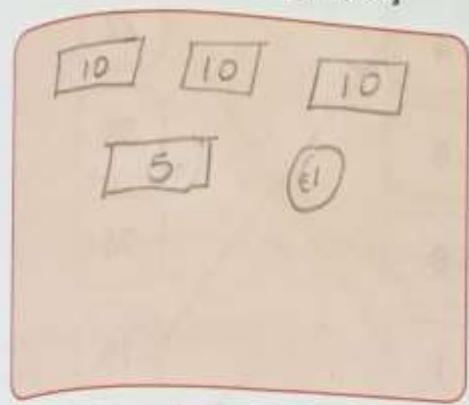
€17



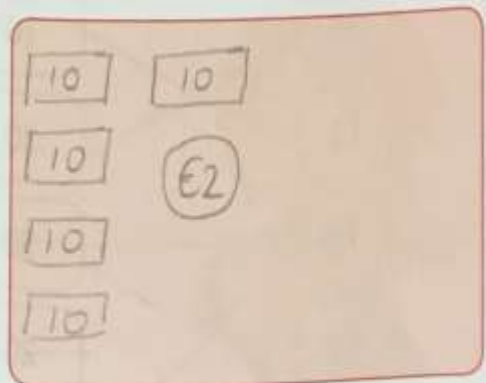
16. Να σχεδιάσεις τα χρήματα στα πορτοφόλια.

Το πορτοφόλι της Λήδας

Το πορτοφόλι του Νίκου



€36



€52



17. Να βρεις το μικρότερο άθροισμα, όπως στο παράδειγμα.

(α) $20 + 2$ $20 + 6$

(β) $40 + 0$ $20 + 3$

(γ) $50 + 7$ $30 + 7$

(δ) $60 + 6$ $50 + 9$



18. Να βρεις τον προηγούμενο και τον επόμενο αριθμό του αθροίσματος, όπως στο παράδειγμα.

Προηγούμενος αριθμός	Άθροισμα	Επόμενος αριθμός
35	$10 + 4$	22
13	$30 + 6$	59
72	$50 + 8$	74
57	$20 + 1$	15
20	$70 + 3$	37



19. Να συμπληρώσεις.

ΤΙΜΟΚΑΤΑΛΟΓΟΣ



€5



€4



€10



€20



€2



€32

(α) Η Χαρά αγόρασε ένα τύμπανο και ένα ντέφι. Πόσα πλήρωσε;

$$20 + 4 = 24$$

Η Χαρά πλήρωσε €24.





(β) Η Αλεξία πλήρωσε €16. Τι αγόρασε;

$$10 + 2 + 4 = 16$$

Η Αλεξία αγόρασε ~~1 μεταλλόφωνο, 1 ντέφι~~
και 2 μαράκες.

(γ) Ο Νίκος είχε €25. Αγόρασε μια τρομπέτα.

$$25 - 5 = 20$$

Πόσα χρήματα του έμειναν; €20

(δ) Πόσο πιο ακριβή είναι η κιθάρα από τις μαράκες;

€30

$$32 - 2 = 30$$

