




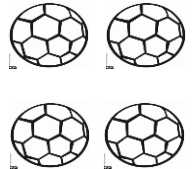
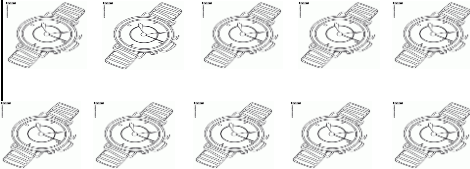
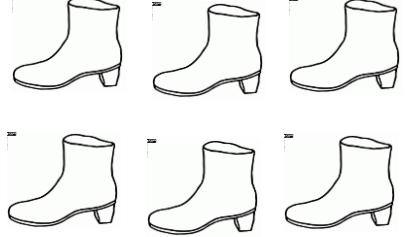

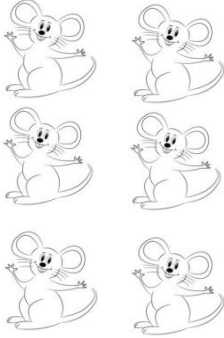



1. Συμπληρώνω:

 $\square \times \square = \square$	 $\square \times \square = \square$	 $\square \times \square = \square$
 $\square \times \square = \square$	 $\square \times \square = \square$	
 $\square \times \square = \square$	 $\square \times \square = \square$	 $\square \times \square = \square$
 $\square \times \square = \square$	 $\square \times \square = \square$	 $\square \times \square = \square$

2. Ζωγραφίζω 2 λουλούδια σε κάθε

βάσο και γράφω τη μαθηματική

πρόταση.



$$\square + \square = \square$$

$$\square \times \square = \square$$



3. Ζωγραφίζω 2 μήλα σε κάθε πιάτο και γράφω τη μαθηματική πρόταση.



$$\square + \square + \square = \square$$

$$\square \times \square = \square$$

1. Λύνω τα προβλήματα:

Ο Περικλής έχει στρατιωτάκια. Τα έβαλε σε δύο σειρές. Σε κάθε σειρά έβαλε 7 στρατιωτάκια. Πόσα είναι τα στρατιωτάκια του;

Εξίσωση: _____

Απάντηση: _____

Η Ιωάννα αγόρασε 2 αρκουδάκια που στοίχιζαν 5 ευρώ το καθένα. Πόσα πλήρωσε;

Εξίσωση: _____

Απάντηση: _____

Οι κοτούλες της γιαγιάς γέννησαν αυγά. Η γιαγιά έβαλε 8 αυγά σε 2 σακουλάκια. Πόσα αυγά γέννησαν οι κοτούλες της γιαγιάς;

Εξίσωση: _____

Απάντηση: _____