







Επαναληπτικό Φυλλάδιο Διαιρέσης

Όνομα:..... Τάξη:..... Ημερ.:

1. Κάνε ένα σχέδιο για κάθε εξίσωση

$5 \div 5 = \dots\dots$	$9 \div 3 = \dots\dots$	$3 \div 1 = \dots\dots$	$8 \div 2 = \dots\dots$
-------------------------	-------------------------	-------------------------	-------------------------

2. Γράψε την κατάλληλη εξίσωση της ΔΙΑΙΡΕΣΗΣ κάτω από κάθε εικόνα

 $3 \div 3 = 1$	 $\dots\dots \div \dots\dots = \dots\dots$	 $\dots\dots \div \dots\dots = \dots\dots$	 $\dots\dots \div \dots\dots = \dots\dots$
---	--	---	--

3. Βρες το μισό των πιο κάτω αριθμών

Το μισό

8 →

4 →

2 →

Το μισό

10 →

8 →

6 →

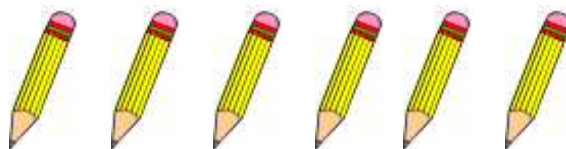


4. Μοίρασε ΔΙΚΑΙΑ τα αχλάδια στα καλάθια



$$\dots \div \dots = \dots$$

5. Μοίρασε ΔΙΚΑΙΑ τα μολύβια στα παιδάκια



$$\dots \div \dots = \dots$$


6. Μοίρασε ΔΙΚΑΙΑ τα πουλάκια στα σπιτάκια



$$\dots \div \dots = \dots$$



7. Πόσες τετράδες μπορούν να κάνουν τα ψαράκια;




..... τετράδες

8. Πόσες δυάδες μπορούν να κάνουν τα σκυλάκια;



..... δυάδες

9. Μοίρασε τους βόλους στις γραμμές



<hr/> <hr/> <hr/> ÷ =	<hr/> <hr/> <hr/> <hr/> ÷ =	<hr/> ÷ =
--	--	--------------------------------



10. Στο κατάστημα

€2



€1



➤ Βρες πόσα τετράδια αγόρασε η Μαρίνα

- Είναι περισσότερα από 4.
- Είναι λιγότερα από 9.
- Γίνονται τριάδες.

..... τετράδια

➤ Βρες πόσες μπάλες αγόρασε ο Μάριος

- Είναι περισσότερες από 5.
- Είναι λιγότερες από 10.
- Γίνονται τετράδες.

..... μπάλες

➤ Ο Νικόλας κρατά €5. Πόσες μπάλες μπορεί να αγοράσει;

..... μπάλες

➤ Η Άννα κρατάει €10. Τι μπορεί να αγοράσει;

.....
.....



➤ Ο Χρίστος αγόρασε 3 μπάλες και 1 τετράδιο. Πόσα πλήρωσε;

Πλήρωσε €

11. Κάνε τις πιο κάτω πράξεις

$$5 + \dots = 8 \quad 8 - \dots = 2 \quad 2 \times 3 = \dots$$

$$8 \times 1 = \dots \quad 8 - 4 = \dots \quad 4 + 5 = \dots$$

$$10 \div 2 = \dots \quad 5 + 4 = \dots \quad 9 - 6 = \dots$$

$$\dots + 3 = 9 \quad 9 - 5 = \dots \quad 4 \times 2 = \dots$$

