




ΔΗΜΟΤΙΚΟ ΣΧΟΛΕΙΟ .....

Όνομα: \_\_\_\_\_ Τάξη: \_\_\_\_\_

### Διαίρεση

1. Μοίρασε τις καραμέλες σε σακουλάκια. Σε κάθε σακουλάκι πρέπει να βάλεις τον ίδιο αριθμό από καραμέλες. Συμπλήρωσε τις προτάσεις.




Υπάρχουν ..... καραμέλες.

Τις μοίρασα σε ..... σακουλάκια.

Σε κάθε σακουλάκι έβαλα ..... καραμέλες.

$$\square \div \square = \square$$




Υπάρχουν ..... καραμέλες.

Τις μοίρασα σε ..... σακουλάκια.

Σε κάθε σακουλάκι έβαλα ..... καραμέλες.

$$\square \div \square = \square$$




Υπάρχουν ..... καραμέλες.

Τις μοίρασα σε ..... σακουλάκια.

Σε κάθε σακουλάκι έβαλα ..... καραμέλες.

$$\square \div \square = \square$$




Υπάρχουν ..... καραμέλες.

Τις μοίρασα σε ..... σακουλάκια.

Σε κάθε σακουλάκι έβαλα ..... καραμέλες.

$$\square \div \square = \square$$




Υπάρχουν ..... καραμέλες.

Τις μοίρασα σε ..... σακουλάκια.

Σε κάθε σακουλάκι έβαλα ..... καραμέλες.

$$\square \div \square = \square$$




Υπάρχουν ..... καραμέλες.

Τις μοίρασα σε ..... σακουλάκια.

Σε κάθε σακουλάκι έβαλα ..... καραμέλες.

$$\square \div \square = \square$$




Υπάρχουν ..... καραμέλες.

Τις μοίρασα σε ..... σακουλάκια.

Σε κάθε σακουλάκι έβαλα ..... καραμέλες.

$$\square \div \square = \square$$




Υπάρχουν ..... καραμέλες.

Τις μοίρασα σε ..... σακουλάκια.

Σε κάθε σακουλάκι έβαλα ..... καραμέλες.

$$\square \div \square = \square$$




Υπάρχουν ..... καραμέλες.

Τις μοίρασα σε ..... σακουλάκια.

Σε κάθε σακουλάκι έβαλα ..... καραμέλες.

$$\square \div \square = \square$$



Υπάρχουν ..... καραμέλες.

Τις μοίρασα σε ..... σακουλάκια.

Σε κάθε σακουλάκι έβαλα ..... καραμέλες.

$$\square \div \square = \square$$