


## Ενότητα 8: Πρόσθεση και αφαίρεση μέχρι το 10

Γράφω πρόβλημα αφαίρεσης για τις παρακάτω εικόνες και τα γύνω.

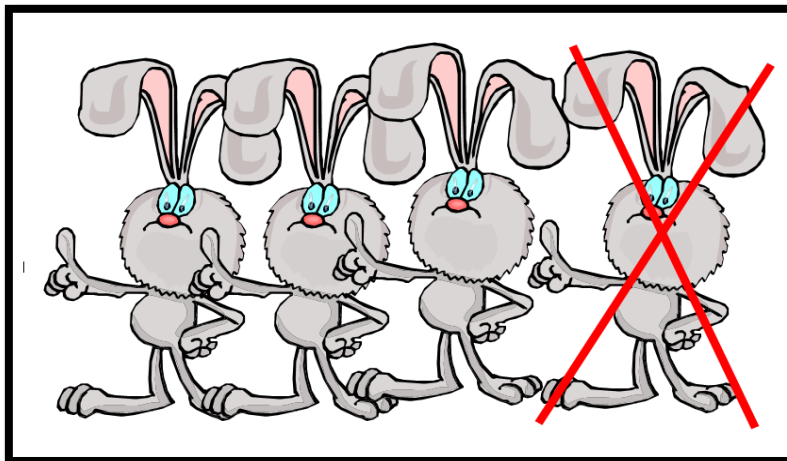


Πρόβλημα: \_\_\_\_\_

Ερώτηση: \_\_\_\_\_

Μαθηματική πρόταση: \_\_\_\_\_

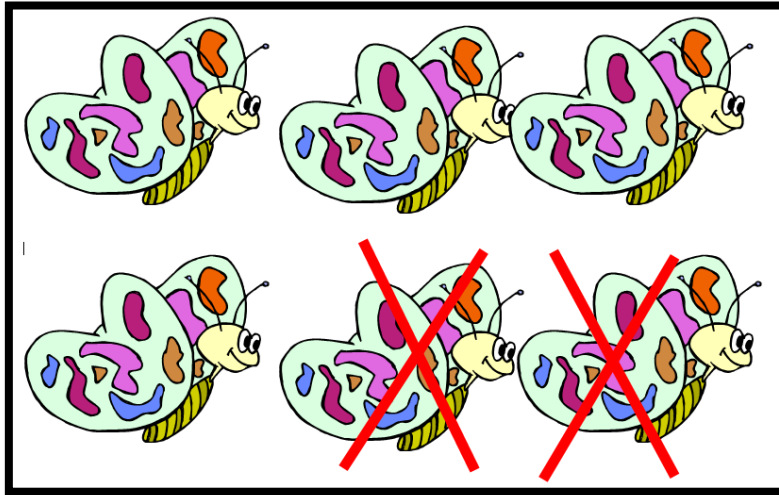
Απάντηση: \_\_\_\_\_



Πρόβλημα: \_\_\_\_\_

Ερώτηση: \_\_\_\_\_


Μαθηματική πρόταση: \_\_\_\_\_ Απάντηση: \_\_\_\_\_



Πρόβλημα: \_\_\_\_\_

Ερώτηση: \_\_\_\_\_

Μαθηματική πρόταση: \_\_\_\_\_ Απάντηση: \_\_\_\_\_



Πρόβλημα: \_\_\_\_\_

Ερώτηση: \_\_\_\_\_

Μαθηματική πρόταση: \_\_\_\_\_ Απάντηση: \_\_\_\_\_

Όνομα: \_\_\_\_\_ Ημερομηνία: \_\_\_\_\_