

Μάθημα 17

1) Συμπλήρωσε τους αριθμούς μέχρι το 20 και παρατήρησε τι αλλάζει καθώς ανεβαίνεις:

0	1	2							
20									

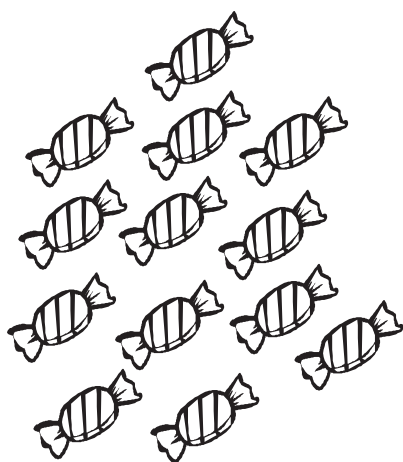
2) Σκέψου και βάλε στον κύκλο το σωστό σημάδι (> = <)

$13 \bigcirc 10$ $7 \bigcirc 17$ $12 \bigcirc 11$ $16 \bigcirc 19$
 $12 \bigcirc 12$ $20 \bigcirc 10$ $5 \bigcirc 15$ $19 \bigcirc 18$


3) Γράψε τον αριθμό που είναι πριν και μετά:

..... 16 19 12 15
 13 10 17 11


4) Πόσα είναι; Κύκλωσε το σωστό αριθμό.



12 ή 13 ή 14



15 ή 16 ή 17



18 ή 19 ή 20

Όνομα: _____