







# Μαθηματικά Α' Δημοτικού



## Ενότητα 10: Οι αριθμοί μέχρι το 100

Γράφω αν ο πρώτος αριθμός είναι μεγαλύτερος ή μικρότερος από τον δεύτερο όπως το παράδειγμα.


16
είναι μεγαλύτερο από το
→

9


12
→

 


 
→

 


 
→

 

Συμπληρώνω τους αριθμούς.

-1	αριθμός	+1
20	21	22

-1	αριθμός	+1
	26	

-1	αριθμός	+1
19		21

-1	αριθμός	+1
	29	

-1	αριθμός	+1
	11	

-1	αριθμός	+1
30		32



Μπράβο και τούφρες!!!

Όνομα: \_\_\_\_\_ Ημερομηνία: \_\_\_\_\_