



Μαθηματικά Α' τάξης
Ενότητα 10: Οι αριθμοί μέχρι το 100

1. Χρωμάτισε 14 φράουλες.




2. Χρωμάτισε 16 αστεράκια.



Όνομα: _____ Ημερομηνία: _____

3. Οι αριθμοί ανακατεύτηκαν. Βοήθησε τον Πέτρο να βάλει τους παρακάτω αριθμούς στη σειρά από το μικρότερο στο μεγαλύτερο.



4. Μέτρησε τα αντικείμενα στις εικόνες και κύκλωσε τον σωστό αριθμό.

14	12	15
----	----	----

20	19	18
----	----	----

15	18	19
----	----	----

8	10	11
---	----	----