


Μένουμε στο σπίτι και μαθαίνουμε! ΜΑΘΗΜΑΤΙΚΑ

Εβδομάδα 4^η
25.01.21-29.01.21



Αγαπημένα μας παιδάκια σας χαιρετούμε,

Ελπίζουμε να είστε υγιείς και χαρούμενοι. Μένουμε σπίτι και μαθαίνουμε για ακόμα μια εβδομάδα. Είμαστε όμως σίγουρες ότι ο καιρός θα περάσει και σύντομα θα είμαστε όλοι πίσω στο αγαπημένο μας σχολείο. Πάμε λοιπόν να ξεκινήσουμε μια καινούρια εβδομάδα γεμάτη με θετική ενέργεια.

Αύτη τη βδομάδα στα Μαθηματικά θα ασχοληθούμε με:

- ΕΝΟΤΗΤΑ 7: Μαθηματικά, Α΄ Δημοτικού, Μέρος 2
✓ Θα γνωρίσουμε τα γεωμετρικά στερεά.
- ΕΝΟΤΗΤΑ 8: Μαθηματικά, Α΄ Δημοτικού, Μέρος 3.
✓ Θα γνωρίσουμε τους αριθμούς μέχρι το 20

Θα χρειαστούμε:

- Τετράδιο «Μένω στο σπίτι και μαθαίνω...Μαθηματικά».
- Τα φύλλα εργασίας που ακολουθούν.
- Μαθηματικά, Α΄ Δημοτικού, Μέρος 2
- Μαθηματικά, Α΄ Δημοτικού, Μέρος 3

Σημαντικό !!!

Όταν εργάζεσαι στο τετράδιο «Μένω στο σπίτι και μαθαίνω...» μην ξεχνάς να βάζεις:

- Ημερομηνία στο περιθώριο της σελίδας
- Τίτλο στην πρώτη γραμμή και να τον υπογραμμίζεις στη δεύτερη. (π.χ. Ενοτητα 7: Γεωμετρικά Στερεά, Ενότητα 8: Οι αριθμοί μέχρι το 100)
- Αριθμό της εργασίας
- Τα ομορφότερα και στρογγυλότερα γράμματα που τόσο καλά ξέρεις να γράφεις.

Μένουμε στο σπίτι και μαθαίνουμε! ΜΑΘΗΜΑΤΙΚΑ

ΔΕΥΤΕΡΑ
25 Ιανουαρίου
2021


Σήμερα:

- Θα γνωρίσουμε τα Γεωμετρικά Στερεά
- Θα μελετήσουμε την Ενότητα 7 (Βιβλίο: Μαθηματικά, Α΄ Δημοτικού, Μέρος 2, σελ. 135, 137)


Γεωμετρικά Σχήματα

Παιδάκια μου, πάμε πρώτα να θυμηθούμε τα γεωμετρικά σχήματα. Μπορείς να παρακολουθήσεις το πιο κάτω βιντεάκι για να θυμηθείς τα γεωμετρικά σχήματα.


<https://www.youtube.com/watch?v=kPjJwheh4QM>



τετράγωνο



κύκλος



τρίγωνο



ορθογώνιο

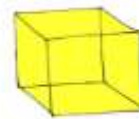


Πάμε τώρα να γνωρίσουμε τι είναι τα γεωμετρικά στερεά. Μπορείς να παρακολουθήσεις το πιο κάτω βιντεάκι.

<https://www.youtube.com/watch?v=evOgiDcObMA>



κώνος



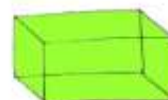
κύβος



κύλινδρος



πυραμίδα




ορθογώνιο

παραλληλεπίπεδο




σφαίρα

Πάμε τώρα να εργαστούμε στο βιβλίο των Μαθηματικών μας, στις σελίδες 135 και 137. Όταν τελειώσω το βιβλίο μου κάνω τις πιο κάτω εργασίες.



1. Φτιάχνω στο τετράδιό μου μια ζωγραφιά παρόμοια με την πιο κάτω και χρωματίζω :

- Όλα τα τρίγωνα με **πράσινο**
- όρους τους κυκλους με **κίτρινο**
- Όλα τα τετράγωνα με **κόκκινο**
- Όλα τα ορθογώνια με **γαλάζιο**




Μένουμε στο σπίτι και
μαθαίνουμε!
ΜΑΘΗΜΑΤΙΚΑ

ΤΡΙΤΗ
26 Ιανουαρίου
2021

Σήμερα:

- Θα γνωρίσουμε καλύτερα τα γεωμετρικά στερεά.
- Θα εργαστούμε στο βιβλίο Μαθηματικών σελ. 134 ,136 ,138, 139,140



Σήμερα θα εργαστούμε στο βιβλίο μας. Πριν αρχίσεις τις εργασίες σου στο βιβλίο θα πταν καλό να παρακορουθήσεις τα πιο κάτω βιντεάκια. Θα σε βοηθήσουν!

Γεωμετρικά Σχήματα και Γεωμετρικά Στερεά

Πατώντας στους πιο κάτω συνδέσμους (κλικ) θα θυμηθείς τι είναι τα γεωμετρικά στερεά και θα μάθεις να διαχωρίζεις τα γεωμετρικά σχήματα από τα γεωμετρικά στερεά.

<https://www.youtube.com/watch?v=BsoPSIY-ws0>

<https://www.youtube.com/watch?app=desktop&v=O63V2MQpNoQ>

<https://www.youtube.com/watch?v=ml9IGK4qKi0>



As εργαζομαστε τώρα στο βιβλίο των Μαθηματικών μας στη σελίδα 134.



4. Στις σελίδα 134 του βιβλίου των Μαθηματικών μας (Μέρος 2) χρωμάτισε:

- ✓ Όλα τα τρίγωνα με **γαλάζιο**
- ✓ Όλους τους κύκλους με **πράσινο**
- ✓ Όλα τα τετράγωνα με **κόκκινο**
- ✓ Όλα τα ορθογώνια με **κίτρινο**
- ✓ Όλα τα ορθογώνια παραλληλεπίπεδα με **μωβ**
- ✓ Όλους τους κυλίνδρους με **ροζ**
- ✓ Όλους τους κώνους με **πορτοκαλί**
- ✓ Όλες τις σφαίρες με **καφέ**
- ✓ Όλους τους κύβους με **μπλε**

Μπορείς τώρα να συνεχίσεις τις εργασίες σου στο βιβλίο των Μαθηματικών σου. Θα πρέπει να εργαστείς στις σελίδες: 136, 138, 139, 140.



Ώρα για γίγγο παιχνιδάκι...

Αφού τελειώσεις τις εργασίες σου μπορείς να παίξεις μαθηματικά παιχνιδάκια πατώντας στον πιο κάτω σύνδεσμο (κλικ).

<https://www.education.com/game/dino-crunch-3dshapes/>

Μένουμε στο σπίτι και
μαθαίνουμε!
ΜΑΘΗΜΑΤΙΚΑ

ΤΕΤΑΡΤΗ
27 Ιανουαρίου
2021

Σήμερα:

- Θα γνωρίσουμε τους αριθμούς μέχρι το 20
- Θα εργαστούμε στο βιβλίο «Μαθηματικά, Α΄ Δημοτικού, Μέρος 3, σελ. 9 και 10»



Πάμε να μάθουμε να μετρούμε μέχρι το 20.
Πάτησε τον παρακάτω σύνδεσμο.

<https://www.youtube.com/watch?v=DHz9P5uGnt8&t=78s>

Τώρα μέτρησε κι εσύ με δυνατή φωνή μέχρι το 20
και στείγε μου την ηχογράφησή σου. Θα σε
βοηθήσει η σαρανταποδαρούσα.



Πάμε τώρα να παρακολουθήσουμε ένα
μάθημα για τους αριθμούς μέχρι το 20.

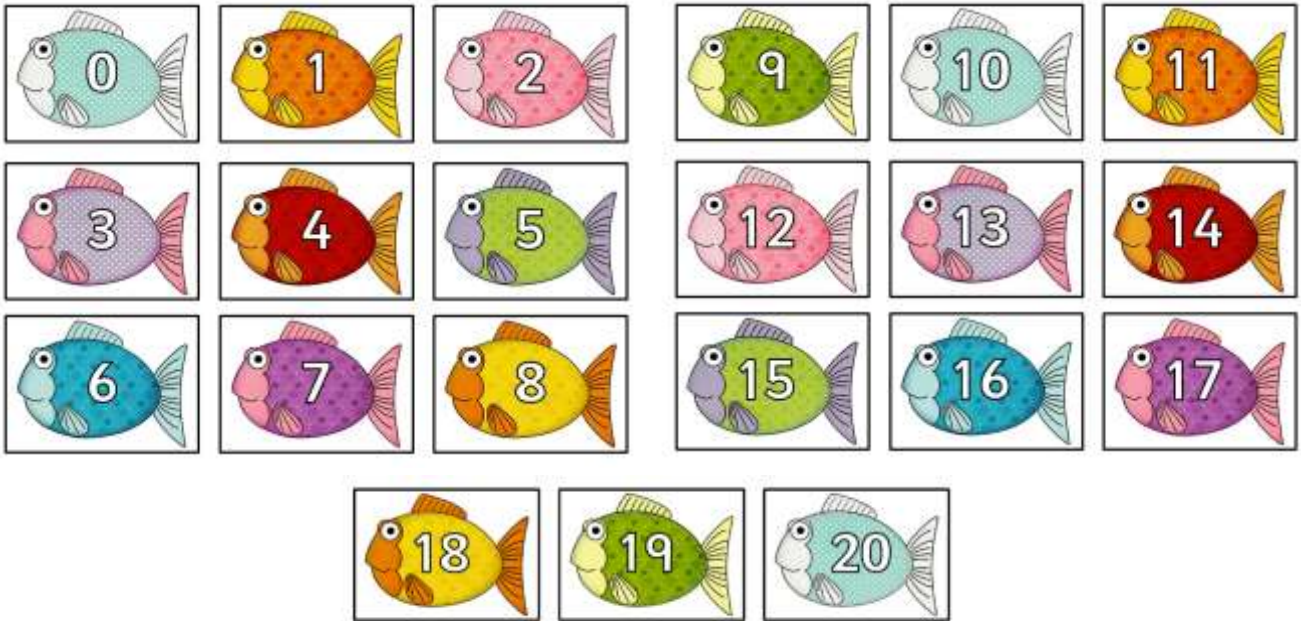
Προσοχή!!

Σήμερα θα πρέπει να παρακολουθήσεις το
βιντεάκι μόνο μέχρι το 13^ο λεπτό.

<https://www.youtube.com/watch?v=Og2EDRHΥjws&t=1138s>

1. Διαβάζω τους αριθμούς

Δείχνω με το χεράκι μου τους αριθμούς στα ψαράκια και τους φωνάζω δυνατά. Μετά ζητώ από τον ενήλικά μου να μου δείχνει τα ψαράκια με τυχαία σειρά και εγώ διαβάζω τον αριθμό που βλέπω.



2. Ακούω και γράφω


Ζητώ από τον ενήλικά μου να μου υπαγορεύσει τους αριθμούς μέχρι το 20, με τυχαία σειρά, και εγώ τους γράφω στο τετράδιό μου.









As εργαζομαστε τώρα στο βιβλίο μας... Πήγαινε στο βιβλίο σου και γύσε τις εργασίες που βρίσκονται στις σελίδες 9 και 10. Μετά συνέχισε με τις παρακάτω εργασίες.


3. Παρατηρώ την εικόνα και γράφω στο τετράδιό μου πόσα βλέπω από κάθε είδος.



	<input type="text"/>		<input type="text"/>
	<input type="text"/>		<input type="text"/>

4. Διαβάζω τη λέξη, την αντιγράφω στο τετράδιό μου, και δίπλα γράφω τον αριθμό.

Έντεκα:



Δεκατέσσερα:




Δεκαεφτά:



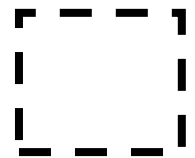
Δεκαεννέα:



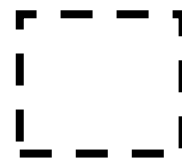
Δώδεκα:



Είκοσι:




Δεκαπέντε:




Δεκατρία:




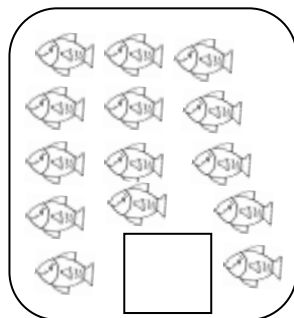
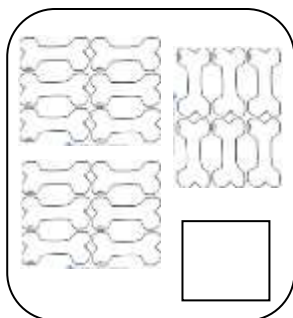

Δεκαέξι:



Δεκαοκτώ:














5. Μετρώ τα αντικείμενα και γράφω στο τετράδιό μου τον σωστό αριθμό.



6. Βλέπω τον αριθμό και ζωγραφίζω στο τετράδιό μου τόσα αντικείμενα.

13	17	14	12
----	----	----	----

7. Μετρώ τα αντικείμενα, επιλέγω και γράφω στο τετράδιό μου τον σωστό αριθμό.

 14 12 15	 4 8 9	 3 5 4	 5 7 6	 12 9 11	 15 18 19
 4 5 6	 8 10 11	 20 19 18	 12 16 15		



Ώρα για γρήγο παιγνιδάκι...
 Αφού τελειώσεις τις εργασίες σου μπορείς να παίξεις μαθηματικά παιγνιδάκια πατώντας στον πιο κάτω σύνδεσμο (κλικ). <https://logouergon.gr/stolizo-dentro-metronfas-20/>

Μένουμε στο σπίτι και
μαθαίνουμε!
ΜΑΘΗΜΑΤΙΚΑ

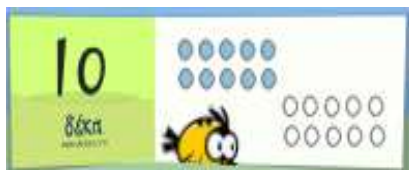
ΠΕΜΠΤΗ
28 Ιανουαρίου
2021

Σήμερα:

- Θα γνωρίσουμε καλύτερα τους αριθμούς μέχρι το 20
- Θα εργαστούμε στο βιβλίο «Μαθηματικά, Α΄ Δημοτικού, Μέρος 3», σελ. 8 και 45, 46



Παρατήρησε προσεκτικά τις πιο κάτω καρτέλες και προσπάθησε να ανακαλύψεις το μυστικό για να μάθεις να μετράς ...χωρίς να μετράς.



As εργαζομαστε τώρα στο βιβλίο μας... Πήγαινε στο βιβλίο σου και γύσε τις εργασίες που βρίσκονται στις σελίδες 8, 45 και 46.



8. Μετρώ τα διάφορα αντικείμενα που υπάρχουν στην εικόνα του βιβλίου μου στη σελίδα 8. Στη συνέχεια γράφω στο τετράδιό μου πόσα αντικείμενα από το κάθε ένα βλέπω στην εικόνα. Κυκλώνω με κόκκινο χρώμα τους αριθμούς που είναι μεγαλύτεροι από το 10.

<u>βιβλία</u>	<u>μογύβια</u>	<u>ροουτούδια</u>	<u>κύβου</u>	<u>ψαράκια</u>



Ώρα για γρήγο παιχνιδάκι...

Αφού τελειώσεις τις εργασίες σου μπορείς να παίζεις μαθηματικά παιχνιδάκια πατώντας στον πιο κάτω σύνδεσμο (κλικ).

<https://www.mathgames.com/skill/1.28-count-objects-up-to-120>

Μένουμε στο σπίτι και μαθαίνουμε! ΜΑΘΗΜΑΤΙΚΑ


ΠΑΡΑΣΚΕΥΗ
29 Ιανουαρίου
2021

Σήμερα:

- Θα μάθουμε τι είναι το πλέγμα του 20
- Θα εργαστούμε στο βιβλίο «Μαθηματικά, Α΄ Δημοτικού, Μέρος 3», σελ. 8,11,12



Το πλέγμα του 20



Πόσα κουτάκια έχει κάθε σειρά;

Γιατί τα αντικείμενα μπαίνουν σε σειρές;

Πώς μας εξυπηρετεί αυτό στο μέτρημα;



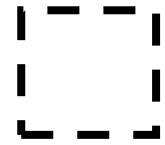
Όταν τα αντικείμενα που έχεις να μετρήσεις βρίσκονται στο πλέγμα του 20 να ξέρεις ότι δεν χρειάζεται να τα μετράς ένα ένα από την αρχή αλλά να θυμάσαι ότι κάθε σειρά έχει 10. Αν η πρώτη σειρά είναι γεμάτη τότε ξεκίνα να μετράς από το 10 προς τα πάνω, προσθέτωντας ένα ένα τα αντικείμενα της δεύτερης σειράς.

Για παράδειγμα εδώ θα σκεφτούμε: 10..και θα πούμε 11..12..13..14..

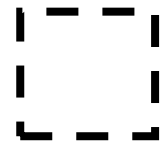


1. Μετρώ τις κουκίδες στα πλέγματα και γράφω στο τετράδιό μου τον αριθμό.

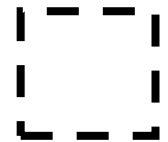
1	2	3	4	5	6	7	8	9	10
●	●	●	●	●	●	●	●	●	●
●	●	●							
11	12	13	14	15	16	17	18	19	20




1	2	3	4	5	6	7	8	9	10
●	●	●	●	●	●	●	●	●	●
●	●	●	●	●					
11	12	13	14	15	16	17	18	19	20



1	2	3	4	5	6	7	8	9	10
●	●	●	●	●	●	●	●	●	●
●	●	●	●	●	●	●			
11	12	13	14	15	16	17	18	19	20



1	2	3	4	5	6	7	8	9	10
●	●	●	●	●	●	●	●	●	●
●									
11	12	13	14	15	16	17	18	19	20



2. Αντιγράφω τα πηγάδια στο τετράδιό μου και ζωγραφίζω τόσα αντικείμενα όσα γέει ο αριθμός στο κουτάκι.

12

17

14

19

Ώρα για γίγιο παιχνιδάκι...

Αφού τελειώσεις τις εργασίες σου μπορείς να παίξεις μαθηματικά παιχνιδάκια πατώντας στον πιο κάτω σύνδεσμο (κλικ).

<https://www.topmarks.co.uk/learning-to-count/helicopter-rescue>

