


# Δημοτικό Σχολείο Φρενάρου - Α' Τάξη

Διήμερο 7-8 Ιανουαρίου 2021

Μαθηματικά



Στα μαθηματικά θα εργαστούμε με τον ίδιο τρόπο όπως και στα Ελληνικά.

Έτσι γριπόν, θα πρέπει και πάλι να έχεις έτοιμο το πρόχειρό σου, να βάλεις σε μια νέα σερίδα ημερομηνία, τίτλο και τον αριθμό της εργασίας και είσαι πανέτοιμος/η να ξεκινήσεις.







## Εργασίες:

1. Αφού παρατηρήσεις την εικόνα, γράψε στο πρόχειρό σου πόσα από κάθε αντικείμενο μπορείς να μετρήσεις.












2. Τώρα σχεδίασε στο πρόχειρό σου, 4 σακάκια, 8 μπότες και 6 πουλόβερ.  
Είσαι πανέτοιμος για το χειμώνα!

3. Αφού παρατηρήσεις τα δάκτυλα σε κάθε περίπτωση, γράψε στο πρόχειρό σου τις μαθηματικές προτάσεις και βρες τα διπλά αθροίσματα.

 $\square + \square = \square$	 $\square + \square = \square$	 $\square + \square = \square$
 $\square + \square = \square$	 $\square + \square = \square$	 $\square + \square = \square$

4. Γράψε στο πρόχειρό σου τις μαθηματικές προτάσεις και βρες τα αθροίσματα.

 $\square + \square = \square$	 $\square + \square = \square$	 $\square + \square = \square$
 $\square + \square = \square$	 $\square + \square = \square$	 $\square + \square = \square$
 $\square + \square = \square$	 $\square + \square = \square$	 $\square + \square = \square$